

प्रथम परख 2014-15

कक्षा-3

दिनांक: 21-8-14 विषय: हिन्दी पूर्णांक: 10

1. चन्द्रमा बनकर तुम्हारा मन क्या क्या करना चाहता है? 1
2. तुम किसकी तरह अपनी मूँछें बढ़ाना चाहते हो? 1
3. खरगोश को क्यों लगा कि आसमान गिर रहा है? 1
4. सचमुच आसमान गिर जाता तो क्या होता है? 1
5. विपरीत/विलोम अर्थ वाले शब्द लिखो- 1
(क)आगे (ख)आसमान (ग)उजाला (घ)डरपोक
6. रेगिस्तान की यात्रा पर कान कौन गए ? 1
7. रेगिस्तान का जहाजको कहा जाता है। 1
(ऊँट, लम्बी, कूबड.)
8. संज्ञा किसे कहते हैं ? 1
9. थैया से मेल खाते और कौन कौन से भाब्द है? 1
10. कविता में बच्चों के कौन-कौनसे नाम आए? 1

FIRST UNIT TEST 2014-15

CLASS - 3

Date: 22-8-14 Subject: English MM: 5

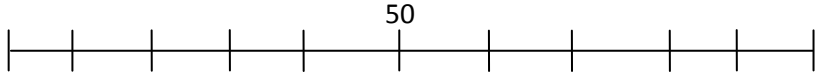
1. हिन्दी में अर्थ लिखो— 1
 Dream, Sweet, Apple, Friend
2. अंग्रेजी में अर्थ लिखो— 1
 घर, पेड़, कक्षा, कमरा
3. Fill in the blanks- 1
 Sw - - t, Dr - - m, F - - r, Cl - - r
4. Translate into Hindi- 2
 - (i) We bought a new house.
 - (ii) First she went to a new house.
 - (iii) She bought a few pots and pans too.
 - (iv) After that she came back home.

प्रथम परख 2014-15

कक्षा-3

दिनांक:21-8-14 विषय:गणित पूर्णांक:10

1. नीचे वाली रेखा पर 30, 35, 50 और 55 को दिखाओ। 1



2. निम्न संख्याओं की जोड़ करो- 1

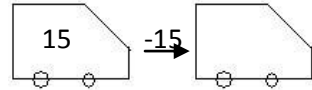
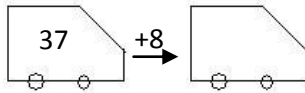
(1) $71+20$ (2) $39+32$ (3) $66+21$ (4) $47+42$

3. एक मोतीमाला बनाकर इसमें 10,15,17,35 कार्ड लटकाइये। 1

4. कागज जैसी दिखने वाली आकृति का नाम लिखो। 1

5. एक बस नोखा से बीकानेर जा रही है उसमें 15 सवारी बैठी है और अगले स्टेशन पर 20 सवारी और बैठ गई बताओ बस में कुल कितनी सवारी है? 1

6. 7. 1+1



8. निम्न संख्याओं का घटाव करो - 1

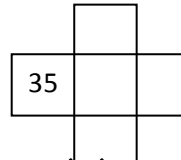
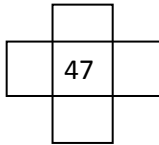
(1) $43 - 13 =$

(2) $27-12 =$

(3) $80 - 35 =$

(4) $50 - 19 =$

9. निम्न खिड़की में संख्या लिखो - 1



10. चित्र बनाइये जिसमें रेखा खींचने पर दोनों भाग एक जैसे दिखें। कोई दो चित्र बनाइये। 1

प्रथम परख 2014-15

कक्षा-3

दिनांक:21-8-14 विषय:पर्यावरण पूर्णांक:10

1. इन्द्रधनुष में कितने रंग होते हैं? 1
2. इन्द्रधनुष के रंगों के नाम बताइये? 1
3. जिन पेड़ पौधों को कोई पानी नहीं देता उन्हें पानी से मिलता है? 1
4. जंगल में रहने वाले जानवर पानी कहाँ से मिलता है? 1
5. तुम्हारे मोहल्ले के लोग कहाँ-कहाँ से पानी लाते हैं? 1
6. तुम्हारे घर में बाजरा और गेहूँ से क्या-2 बनाया जाता है? 1
7. खाने का तेल किन-किन चीजों से प्राप्त होता है? 1
8. तुम पिकनिक पर जाओगे तो कौनसा चूल्हा ले जाओगे और क्यों ? 1
9. बिना पकाए खाया जाने वाली चीजों के नाम लिखो। 1
10. तुम पिकनिक पर जो खाना खाना पसंद करोगे उन चीजों के नाम लिखो। 1

FIRST UNIT TEST 2014-15

CLASS - 3

Date: 23-8-14

Subject: GK

MM: 10

Q.1 State language-

[a] Marwari

[b] Hindi

[c] Sindhi

[d] Dogari

Q.2 City of Jal Mahal-

[a] Deeg (Bhartpur)

[b] Galta (Jaipur)

[c] Pushkar(Ajmer)

[d] Nokha (Bikaner)

Q.3 Himalayan city-

[a] Mount Abu

[b] Ajmer

[c] Nokha

[d] Kolayat

Q.4 The largest district according to area-

[a] Jodhpur

[b] Jaisalmer

[c] Bikaner

[d] Barmer

Q.5 State animal-

[a] Antelope

[b] Camel

[c] Cow

[d] Horse

P.T.O.

Q.6 Mountain city of Rajasthan-

- | | |
|------------|---------------|
| [a] Jaipur | [b] Dungarpur |
| [c] Bundi | [d] Baran |

Q.7 Nagpur of Rajasthan-

- | | |
|--------------|-----------|
| [a] Tonk | [b] Alwar |
| [c] Jhalawar | [d] Kota |

Q.8 Board of Secondary Education-

- | | |
|-------------|---------------|
| [a] Ajmer | [b] Bikaner |
| [c] Jodhpur | [d] Jaisalmer |

Q.9 Ancient name of the Jodhpur-

- | | |
|--------------|------------|
| [a] Satyapur | [b] Marwar |
| [c] Hadouti | [d] Koth |

Q.10 Rajasthan Law University-

- | | |
|-------------|-------------|
| [a] Kota | [b] Jaipur |
| [c] Jodhpur | [d] Bikaner |

∞∞x∞∞

FIRST UNIT TEST 2014-15

CLASS - 3

Date:22-8-14 Subject:Math-Magic MM:10

1. Simplify- 2

(A) 2356 (B) 9874

+ 7855 + 3045

(C) 7890 (D) 5624

- 2053 $\times 12$

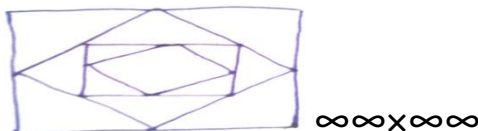
2. Write counting in words from 1 to 20. 2

3. Write in words- 2

123, 125, 305, 352

4. Make a square and a rectangle in your answer book. (use pencil) 2

5. Make pattern in your answer book like this- (use pencil) 2



FIRST UNIT TEST 2014-15

CLASS - 3

Date: 22-8-14

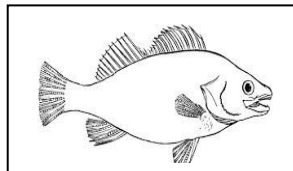
Subject: EVS

MM: 10

1. Which animal can you see on trees? Write five animals name. (Ans- Pigeon, -----) $2\frac{1}{2}$

2. Which animal do you see at the pond? Write five animals name. (Ans- Duck, -----) $2\frac{1}{2}$

3. Here are some pictures of animals. Write their name- $2\frac{1}{2}$




D-----

F-----

A-----

5. Look at the picture given below and draw it in your answer book. (Use pencil) $2\frac{1}{2}$



∞∞∞X∞∞∞